

1- عَلاءٌ يُحِبُّ الرِّسْمَ وَالتَّلْوِينَ سَاعِدُهُ عَلِيٌّ :
أ- رَسَمِ تِنَاحَةَ أَعْلَى الشَّجَرَةِ.



معا 1



ب- تَلْوِينِ أَطْوَلِ قِطَارٍ.



معا 1

2- قَبْلَ الخُرُوجِ مِنَ الدَّارِ قَدَّمَتْ لَهُ ^{مؤنثه} أُمُّهُ ثَلَاثَ تِنَاحَاتٍ اخْتَارَ أَكْبَرَهَا.
ضَعِ تَحْتَهَا العَلَامَةَ (X)



معا 1

3- قَصَدَ عَلَاءٌ بُسْتَانَ جَدِّهِ وَبِيَدِهِ الْيَمْنَى خُبْزَةً.
- ارْسُمْ الخُبْزَةَ فِي الْمَوْجِعِ الْمَذْكُورِ.



مع 1

4- لَمَّا وَصَلَ عَلَاءٌ سَمِعَ مَوَاءَ قِطٍّ، اقْتَرَبَ مِنْهُ وَوَضَعَ أَمَامَهُ قُتَاتَ الخُبْزِ.
أ- مَا هِيَ العَاسَّةُ الَّتِي أُدْرِكُ بِهَا عَلَاءٌ صَوْتِ القِطِّ ؟
أَضَعُ عَلامَةَ (X) فِي المَرْتَبِيعِ المُنَاسِبِ.



مع 1

ب- مَوْضِعُ القُتَاتِ فِي الصُّورَةِ عَاطِيٌّ مَوْجِعِ مَرَاجَعَةٍ
مَوْجِعِ مَرَاجَعَةٍ
mourajaa.c

أَشْطَبُ الخَطَأِ لِأَنَّهُ :
فَوْقَ القِطِّ
تَحْتَ القِطِّ
وَرَاءَ القِطِّ

مع 2

ج- أَصْلِحُ الخَطَأَ بِوَضْعِ قُتَاتِ الخُبْزِ فِي المَكَانِ المُنَاسِبِ

مع 3

5- تَحَوَّلَ عَلَاءٌ فِي البُسْتَانِ وَقَطَفَ بُرْتَقَالَهُ مِنْ أَقْرَبِ شَجَرَةٍ إِلَى الكُوخِ قَشْرَهَا وَأَكَلَهَا فَوَجَدَ طَعْمَهَا حُلُوءًا.

أ- الوُجُودُ الشَّجَرَةِ الَّتِي قَطَفَ مِنْهَا البُرْتَقَالَ



مع 1

ب- أُحِيطُ بِذَاتِ الرَّةِ أَبْعَدَ شَجَرَةٍ عَنِ الكُوخِ.

مع 1

ج- رَسَمْنَا الْعَلَامَةَ (X) أَمَامَ الْحَاسَةِ الَّتِي تَذُوقُ بِهَا عِلَاءَ الْبُرْتَقَالَةِ.

مع 1



- أَجِيبُ بِنَعْمٍ أَوْ لَا X

- هَلْ مَوْجِعُ الْعَلَامَةِ سَلِيمٌ؟

مع 2

أُذُنُهُ
 يَدُهُ
 لِسَانُهُ

لأنَّ عِلَاءَ تَذُوقِ طَعْمِ الْبُرْتَقَالَةِ بِـ

مع 3

د- أَصْلِحِ الْخَطَأَ بِوَضْعِ الْعَلَامَةِ (X) أَمَامَ الْحَاسَةِ الْمُنَاسِبَةِ.

6- عِلَاءٌ يُحِبُّ مُتَابَعَةَ اللَّقَاعَاتِ الرَّيَاضِيَّةِ عَلَى شَاشَةِ التَّلْفَازِ.

مع 1

أ- هَلْ تَرَى مَكَانَ جُلُوسِهِ يُحَافِظُ عَلَى سَلَامَةِ عَيْنَيْهِ؟

موقع مراجعة
mourajaa.com

- أَجِيبُ بِنَعْمٍ أَوْ لَا

مع 2



ب- لِمَاذَا؟

• لِأَنَّهُ قَرِيبٌ مِنَ الشَّاشَةِ.

• لِأَنَّهُ بَعِيدٌ عَنِ الشَّاشَةِ.

أَشْطَبُ الْخَطَأَ :

مع 3



ج- أَضَعُ عِلَامَةَ (X) فِي الْمَوْجِعِ الَّذِي يُمَكِّنُهُ

مِنْ مُشَاهَدَةِ الْمُبَارَاةِ دُونَ الْإِضْرَارِ بِعَيْنَيْهِ.

جدول إسناد الأعداد (خاص بالمعلم)

التميز		المعايير الدنيا				درجات التملك
مع 3		مع 2		مع 1		
العدد	إج ص	العدد	إج ص	العدد	إج ص	
				0	0	انعدام التملك
				1	1	
0	0	0	0	2	2	
				3	3	نون التملك الأدنى
				4	4	
2	1	2	1	6	5	
						التملك الأدنى
3	2	3	2	7	6	
						التملك الأقصى
				8	7	
5	3	5	3	9	8	
				10	9	

إجابات صحيحة

ملاحظات :

- يحيط المعلم بدائرة القيمة العددية للإجابات الصحيحة في كل معيار.

1- قَضَى عِلَاءً يَوْمَ الْأَحَدِ فِي اللَّهْوِ مَعَ أَصْدِقَائِهِ وَفِي الْمَسَاءِ الْكَبَّ يُكْمِلُ رَسْمًا
كَلَّفَهُ بِهِ الْمُعَلِّمُ
الْوَنُ مَا تَحْتِ الطَّائِرَةِ فِي الصُّورَةِ الْأُولَى وَمَا جَاءَ عَلَى يَمِينِهِ فِي الصُّورَةِ الثَّانِيَةِ.

1ـ



2- أَنْهَى عِلَاءً عَمَلَهُ فَتَوَجَّهَ إِلَى فِرَاشِهِ. مَتَى كَانَ يَرْتَكِلُهُ؟
أ - أَضَعُ عَلَامَةً (X) أَمَامَ الْجَوَابِ الصَّحِيحِ :

في اللَّيْلِ في الصَّبَاحِ فِي النَّهَارِ

ب - أَضَعُ عَلَامَةً (X) أَمَامَ مَا يَدُلُّ عَلَى الزَّمَنِ فِي الرَّسْمِ.



الظَّلَامُ
النَّطَاءُ
الْفِرَاشُ

1ـ

2ـ

3- وفي صباح يومٍ

السبت
الأحد
الاثنين

 استيقظ سهيل على زقزقة العصافير وصياح الديكة.

مع 1

أ- أشطب اسم اليوم الذي لا يناسب الموقف

أخذ فتاحة من القفة متى يأكلها؟

مع 3

ب- أضع علامة (X) أمام الإجابة المناسبة: يأكلها قبل غسلها

يأكلها بعد غسلها

4- جلس علاء مع أبويه لتناول وجبة فطور الصباح

- أحدد بعط معلق ما يمكن أن يأكله.

مع 1



5- انصرف علاء إلى مدرسته. دخل الساحة وتوجه إلى الحديقة رفقة أصدقائه،

سقى الأشجار، ثم نظف قفص الأرانب وأعطى لكل أرنب عسة

أ- أضع العلامة (X) أمام الأرنب الذي يقضي مدة أقصر في الأكل:

مع 1



مع 2

ب- ألون أصغر عسة.

6- بعد ذلك رمى مجموعة من العظام أحضرها معه إلى فراخ الدجاجة.
أ- هل تلتقطها؟ أشتب الخطأ: نعم - لا
ب- أضع العلامة (X) أمام ما تلتقطه الفراخ:



الحب

الفراخ تلتقط الديدان

اللحم

7- تفقد علاء نباتات في الحديقة. فلاحظ أنها تنمو من أسبوع إلى آخر
أ- أرتبها بوضع الأرقام التالية: 1-2-3-4 حسب تدرج نموها



موقع مراجعة
mourajaa.com

ب- أضع العلامة (X) أمام الإجابة الصحيحة:

النبات تنمو فتكبر وتزهو وتثمر.

- لأن علاء يزورها كل يوم.

- لأن علاء يتعهد بها بالسقي.

- لأن علاء يحميها من الشمس.

8- أ - أنظر إلى الصور وأضع العلامة (X) تحت الرسم الذي يكون فيه الصوت مضرًا بحاسة سمع علاء.



1- مع

ب - أشطّب الإفادّة الحاطيّة

- أنظف أذنيّ بإصبعي

- أنظف أذنيّ بعود طرّة ملفوف بالقطن

3- مع

جدول إسناد الأعداد (تخاص بالمعلم)

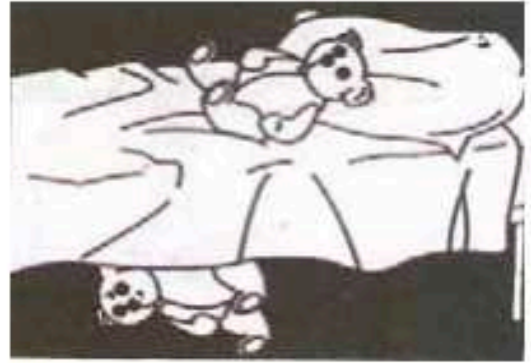
التميز	المعايير الدنيا				درجات التملك
	مع 2		مع 1		
	إج ص	العدد	إج ص	العدد	
0	0	0	0	0	0
				1	1
				2	2
2	1	2	1	3	3
				4	4
				5	5
3	2	3	2	7	6
				8	7
				9	8
5	3	5	3	10	9

إج ص : إجابات صحيحة

ملاحظات : يمحيط المعلم بدائرة القيمة العددية للإجابات الصحيحة في كل معيار.

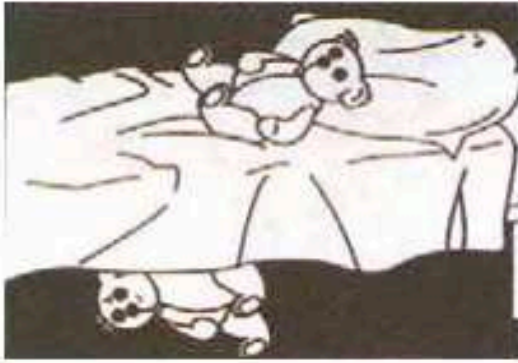
1- ألون بالأحمر اللعبة الموجودة

فوق السرير



ألون بالأخضر اللعبة الموجودة

تحت السرير



2- ألون الأجسام الموجودة تحت المكتب


موقع مراجعة
mourajaa.com



3- أضع علامة (X) تحت صورة أعلى جسم



4 - ألون الأجسام الموجودة أعلى الشجرة.




5 - أضع علامة (X) تحت صورة الفراخ الموجودة أمام الدجاجة.



6 - أرسم شجرة على يمين سامية ونخلة على يسارها.



7 - الْوَنُّ وَسَائِلُ النَّقْلِ الْمَوْجُودَةُ عَلَى يَسَارِ الشَّرْطِيَّةِ.




8 - الْوَنُّ الْمَشْهُدُ.



- أَحْيَطُ بِخَطِّ مَعْلُوقٍ أَبْعَدَ شَجَرَةٍ عَنِ سَامِيَّةٍ.

- الْوَنُّ أَكْبَرُ شَجَرَةٍ بِالنِّسْبَةِ إِلَى سَامِيَّةٍ مَوْقِعِ مَرَاجَعَةٍ

- أَضَعُ عَلَامَةً (X) تَحْتَ أَطْوَلِ شَجَرَةٍ بِالنِّسْبَةِ إِلَى سَامِيَّةٍ.



1- أضع علامة (X) تحت صورة الحدث الذي يستغرق مدة زمنية أطول.









موقع مراجعة
mourajaa.com

لأن المشهد الذي يستغرق فيه الحدث مدة زمنية أقصر



3 - أَرِطُ كُلَّ مَشْهَدٍ بِمَا يَنَاسِبُ :



موقع مراجعة
mourajaa.com




4- أَرِطْ الْيَوْمَ بِالرَّقْمِ الْمُنَاسِبِ لِأَحْصُلَ عَلَى أَيَّامِ الْأُسْبُوعِ مُرْتَبَةً مِنْ 1 إِلَى 7

- 1 •
- 2 •
- 3 •
- 4 •
- 5 •
- 6 •
- 7 •

- يَوْمَ الْأَحَدِ
- يَوْمَ الْأَرْبَعَاءِ
- يَوْمَ الْجُمُعَةِ
- يَوْمَ الْإِنْتِنِ
- يَوْمَ الثَّلَاثَاءِ
- يَوْمَ الْخَمِيسِ
- يَوْمَ السَّبْتِ



5- ارسم كرة كبيرة فوق الطاولة وكره أصغر منها تحت الطاولة.



6- ألون اللعبة التي على يمين علاء بالأخضر واللعبة التي توجد على يساره بالأحمر.












فيزياء

السنة الأولى

تمارين تقييمية

المحور : المادة

1 - ألوّن الجسم الأثقل بالأحمر والجسم الأخف بالأزرق في كل مجموعة :

مِحْفَظَةٌ		تَمْرَةٌ		فَأْرٌ	
كِتَابٌ		رَمْلَةٌ		حَلَزُونٌ	
مِمْحَاةٌ		فِجْلٌ		حِصَانٌ	



2 - ألوّن الأجسام التي لها نفس الثقل.

				
كُرَةٌ	كُجَّةٌ مِنْ حَدِيدٍ	كُجَّةٌ مِنْ حَدِيدٍ	دَوَامَةٌ	كُجَّةٌ مِنْ حَدِيدٍ

موقع مراجعة
mourajaa.com

3 - أكمل بكتابة : صلب - سائل - غازي.



الحجر جسم

الهواء الذي يوجد في

الماء جسم

النفخة جسم

4 - أَرْبَطُ بَيْنَ الْجِسْمِ وَحَالَتِهِ :

• الهَوَاءُ

• الْمَاءُ

• السَّلْحُ

• الْحَدِيدُ

• الْحَلِيبُ

• الْعَطْنُ

• الطَّائِلَةُ

• جِسْمٌ صَلْبٌ

• جِسْمٌ سَائِلٌ

• جِسْمٌ غَازِيٌّ



موقع مراجعة
mourajaa.com

1 - أربط الصورة بما يناسب :



موقع مراجعة
mourajaa.com



2- أَكْتُبُ "جَذَبَ" - "دَفَعَ" فِي الْمَكَانِ الْمُنَاسِبِ :

- أَرْفَعُ عِلْمَ بِلَادِي.

قُوَّةٌ

- أَفْتَحُ نَافِذَةَ عُرْفِي.

قُوَّةٌ

- أَقْدِفُ الْكُرَّةَ نَحْوَ الْمَرْمَى.

قُوَّةٌ

- أَجْنِي حَبَّ الزَّيْتُونِ.

قُوَّةٌ

- أَسُوقُ دَرَّاجَتِي.

قُوَّةٌ



موقع مراجعة
mourajaa.com

3- أَشْطَبُ الْخَطَأَ :

- أَدْفَعُ الصَّخْنَ لِأَقْرَبِهِ مِنِّي.

- أَدْفَعُ النَّعَالَهَ فَتَتَحَرَّكَ إِلَى الْأَمَامِ.

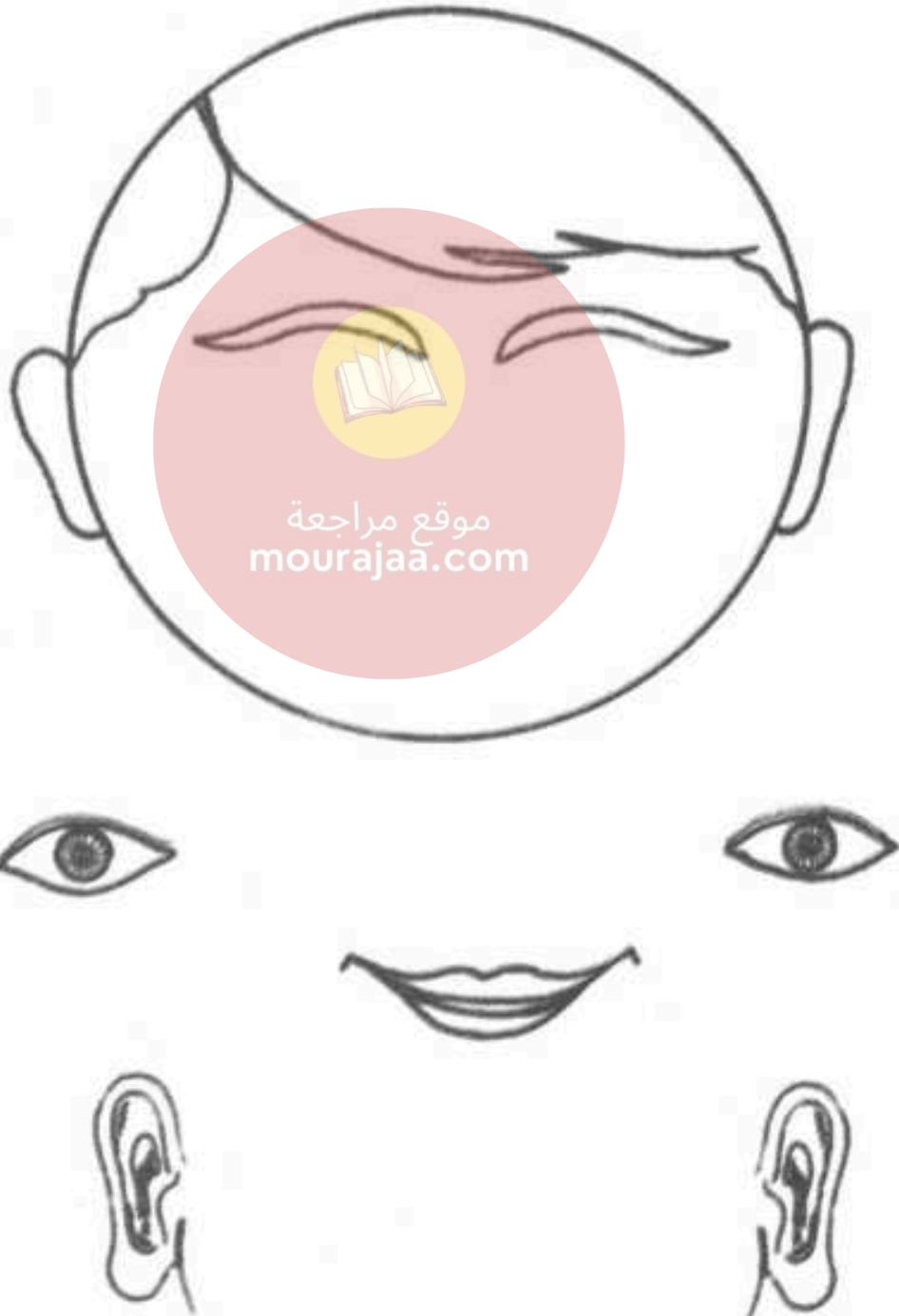
- أَجْدِبُ الْحَبْلَ فَيَصْعَدُ الْعِلْمُ إِلَى الْأَعْلَى.

- أَجْدِبُ حَيْطَ الصَّنَارَةِ فَتَنْزِلُ السَّمَكَةُ إِلَى أَسْفَلَ.

- أَدْفَعُ الْبَرْمِيلَ فَيَتَوَقَّفُ عَنِ الْحَرَكَةِ.

جسم الإنسان

1- أربط عضو الحس بموقعه المناسب من الرأس



هَذِهِ مَجْمُوعَةٌ مِنَ الْأَجْسَامِ.


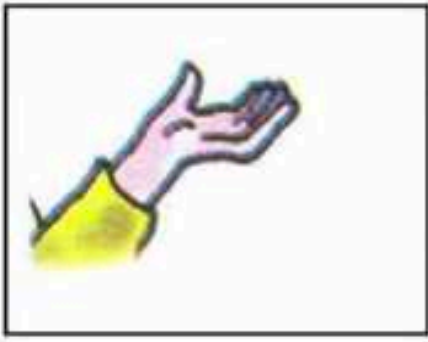
أَرِيبُ كُلِّ جِسْمٍ بَعْضُهُ الْحَسَنُ الْمُنَاسِبُ




موقع مراجعة
mourajaa.com



2- أضع علامة (X) أمام عُضْوِ الْحِسِّ :



موقع مراجعة
mourajaa.com



1- أربط الكائن الحي بالغذاء الذي يعيش عليه.



موقع مراجعة
mourajaa.com



3- أَلْوَنُ الْأَعْدِيَّةِ الَّتِي أَتَاوَلَهَا فِي فَطُورِ الصَّبَاحِ



مَوْزٌ



بَيْضٌ



خَسٌّ



بَطَاطَا



خَبْزٌ



حَلِيبٌ



جَزَرٌ



سَمَكٌ



يَاغُورَتٌ



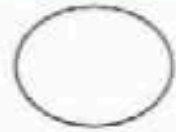

3- أَلْوَنُ الْحَيَوَانَ الَّذِي يَتَغَدَّى



موقع مراجعة
mourajaa.com



4 - أَكْتُبُ الأَرْقَامَ : 1 ، 2 ، 3 ، 4 تَحْتَ الصُّورَةِ المُنَاسِبَةِ.



موقع مراجعة
mourajaa.com



5- أَكْتُبُ "نَعَمْ" أَوْ "لَا" تَحْتَ الصُّورَةِ الْمُنَاسِبَةِ.



1- أَرِطْ بِمَا يُنَاسِبُ

- التّبات
- الحَجَر
- الرّضيع
- فرَحُ الدّجاج
- التّخيل
- السّطل

• يَنمو

• لا يَنمو



موقع مراجعة
mourajaa.com

2- أَرَسِّمُ النّبتة في الإِطارِ وَالنّبتةَ (2) في الإِطارِ (3)



(4)



(3)

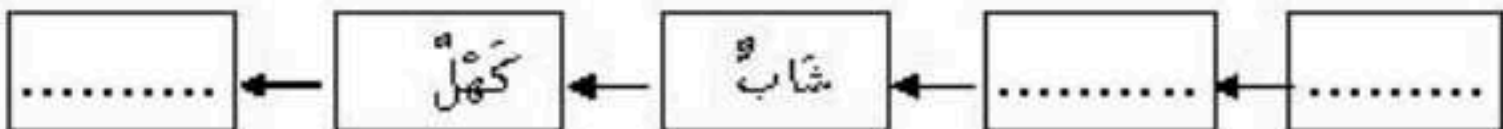


(2)



(1)

3- أُكْمَلُ بِكِتَابَةِ : شَيْخٌ - رَضِيعٌ - طِفْلٌ - وَالْوَنُ بِالْأَحْمَرِ الإِطَارَ الَّذِي يُنَاسِبُ
عُمَرَ أَبِي



4 - أَضَعُ عِلَامَةَ (X) فِي الْخَلَاةِ الْمُنَاسِبَةِ.

مَظَاهِرُ النَّمُو	تَظْهَرُ الْأَوْرَاقُ	تَطْوُلُ الْقَامَةُ تَطْوُلُ السَّاقُ	يَظْهَرُ الشَّعْرُ أَوْ الْوَبَرُ	يَزِيدُ الْحَجْمُ	يَزِيدُ الْوِزْنُ
الْكَائِنُ الْحَيُّ					
الْإِنْسَانُ					
الْحَيَوَانُ					
النبات					



موقع مراجعة
mourajaa.com

1- ألون الحيوانات التي :

- تَنْعِزُ (بالأحمر)
- تَرْحَفُ (بالأخضر)
- تَسْبَحُ (بالأزرق)
- تُطِيرُ (بالأصفر)



عُصْفُورٌ



جَمَلٌ



أَرْنَبٌ



أَخْطُبُوطٌ



ضِفْدَعَةٌ



ثَعْلَبٌ



سَمَكَةٌ



ثُعْبَانٌ



قَطٌّ



بَطَّةٌ



حَلْزُونٌ

موقع مراجعة
mourajaa.com

2- اكتب اسم حيوان :

- يَنْعِزُ وَيَتَعَدَّى عَلَى الْعُشْبِ

- يَرْحَفُ وَيَعِيشُ عَلَى الْعِثْرَانِ

- يَسْبَحُ فِي النَّهْرِ وَيَتَعَدَّى عَلَى اللَّحْمِ

- يَتَعَدَّى عَلَى اللَّحْمِ، عِنْدَمَا يَنْمُو يَكْسُو جِسْمَهُ رِيشًا، يَتَنَقَّلُ

بِوَسْطَةِ الطَّيْرَانِ.



3- أضع علامة (X) في الخانة المناسبة :

موقع مرجعة www.majma.com				
الحيوان	الغنز	الرحف	السباحة	الطيْران
السَّمَكَةُ				
الكَعْبَرُ				
الْبَيْعَاءُ				
النَّعَامَةُ				
الْأَنْصَى				
البطة •				

1 - اكتب تحت الصورة

لَا تَنْفَسُ

تَنْفَسُ

لَا يَنْفَسُ

يَنْفَسُ

بَطَّة



.....

طَبْلٌ



.....

رَضِيعٌ



.....

سَمَكَةٌ



.....

ضَفْدَعَةٌ



.....

فَأْرٌ



.....

حَمَامَةٌ



.....

أَرْبَبٌ



.....

دُمِيَّةٌ



.....

غَوَاصٌّ



.....

سَيَّارَةٌ



.....

نَائِمٌ



.....

كَلْبٌ



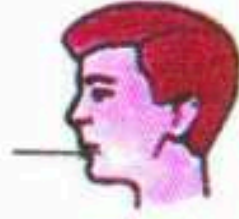
.....

2- أكْمَلْ بِكِتَابَةِ الْقَمِ الْأَلْفِ

2- أكْمَلْ بِكِتَابَةِ الْقَمِ الْأَلْفِ



الهَوَاءُ يَخْرُجُ مِنْ



الهَوَاءُ يَدْخُلُ مِنْ



الهَوَاءُ يَخْرُجُ مِنْ



الهَوَاءُ يَدْخُلُ مِنْ

3- أَرِطْ بِ- يَتَنَفَّسُ بِصُورَةٍ عَادِيَةٍ يَتَنَفَّسُ بِسُرْعَةٍ

موقع مراجعة
mourajaa.com

طِفْلٌ يَجْرِي

رَضِيعٌ نَائِمٌ

حِصَانٌ يَعْذُو

طِفْلٌ يَقْرَأُ قِصَّةً

نَمْرٌ يَطَارِدُ غَزَالًا

دَرَّاجٌ عِنْدَ خَطِّ الْوُصُولِ

• يَتَنَفَّسُ بِصُورَةٍ عَادِيَةٍ

• يَتَنَفَّسُ بِسُرْعَةٍ